

## 2. SINIF MATEMATİK DERSİ 2.DÖNEM 1.YAZILI

Adı Soyadı : .....

Aldığı Puan: /

1. Aşağıdaki toplama ve çıkarma işlemlerini yapınız. ( 10 puan )

$$\begin{array}{r} 58 \\ + 12 \\ \hline \end{array}$$

$$\begin{array}{r} 64 \\ - 29 \\ \hline \end{array}$$

$$\begin{array}{r} 80 \\ + 13 \\ \hline \end{array}$$

$$\begin{array}{r} 63 \\ - 25 \\ \hline \end{array}$$

$$\begin{array}{r} 55 \\ - 23 \\ \hline \end{array}$$

2. Aşağıdaki çarpma işlemlerini yapınız. ( 10 puan )

$$4 \times 4 =$$

$$7 \times 5 =$$

$$8 \times 3 =$$

$$7 \times 4 =$$

$$8 \times 2 =$$

3. Aşağıdaki bölme işlemlerini yapınız. ( 10 puan )

$$\begin{array}{r} 18 \overline{) 2} \\ \hline \end{array}$$

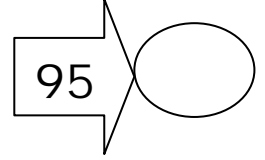
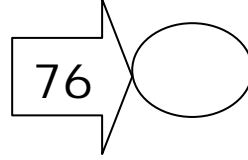
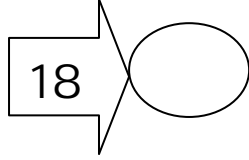
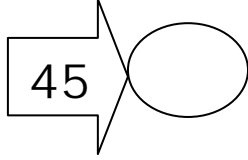
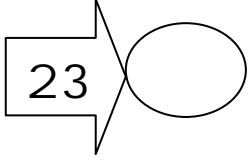
$$\begin{array}{r} 9 \overline{) 3} \\ \hline \end{array}$$

$$\begin{array}{r} 12 \overline{) 4} \\ \hline \end{array}$$

$$\begin{array}{r} 15 \overline{) 3} \\ \hline \end{array}$$

$$\begin{array}{r} 35 \overline{) 5} \\ \hline \end{array}$$

4. Aşağıdaki iki basamaklı doğal sayıları en yakın oldukları onluğa yuvarlayınız. ( 10 puan )



5. Aşağıdaki toplama işlemlerinin yaklaşık sonuçlarını bulunuz. ( 10 puan )

$$\begin{array}{r} 54 \\ + 21 \\ \hline \end{array} \Rightarrow \square$$

$$\begin{array}{r} 45 \\ + 25 \\ \hline \end{array} \Rightarrow \square$$

$$\begin{array}{r} 38 \\ + 36 \\ \hline \end{array} \Rightarrow \square$$

6. Yandaki soruları, aşağıdaki tabloya göre yanıtlayınız. ( 10 puan )

Sınıfımızdaki Futbol Takımı Taraftarı	
Takım adı	Taraftar sayısı
Galatasaray	6
Fenerbahçe	10
Beşiktaş	9

a) Tabloya göre sınıfta toplam kaç kişi vardır?.....

b) Tabloya göre en çok taraftarı olan takım hangisidir? .....

c) Beşiktaş taraftarları, Galatasaray taraftarlarından kaç fazladır?

.....

8. Aşağıdaki problemleri işlem yaparak çözünüz. ( 40 puan )

Bir kümeste 45 ördek, 25 tane de kaz vardır. Kümeste toplam kaç hayvan vardır?  
(10 puan)



Murat' ın 24 kalemı, Suna' nın 14 kalemı vardır. Murat' ın Suna' dan kaç fazla kalemı vardır? (10 puan)



Fırat, Canan ve Ceren üç arkadaşlırlar.

Fırat' ın 19, Canan' ın 22 oyuncacı vardır. Üçünün toplam 67 oyuncacı olduğuna göre Ceren' in kaç oyuncacı vardır? (5 puan)



Arzu, bir mağazadan 33 TL' ye bir etek, 11 TL' ye bir gömlek, 5 TL' ye de çorap aldı. Arzu, aldıkları için satıcıya toplam kaç TL ödemiştir?  
(5 puan)



Serdar 18 kg, Mustafa Serdar' dan 3 kg daha az kiloya sahiptir. Emel' de Mustafa' dan 4 kg daha ağırdır.

Buna göre Emel kaç kg' dir?  
(5 puan)



Merve 12 yaşındadır. Ablası Merve' den 5 yaş büyüktür. Buna göre Merve ve ablasının yaşları toplamı kaçtır? (5 puan)



BAŞARILAR