

ADI-SOYADI:.....

1-) Kerem' in babası 36 yaşındadır. Kerem ise babasından 28 yaş küçüktür.



Buna göre, Kerem ile babasının yaşları toplamı kaçtır?

- A) 54 B) 64 C) 44



uzunluk



zaman



kütle

2-) Yukarıda ölçülerle ilgili eşleştirme yapılmıştır. Yanlış eşleştirme hangisidir?

- A) 1 B) 2 C) 3

3-) Aşağıdaki bilgilerden hangisi yanlıştır?

- A) 8 tane yarım litre 4 litreye eşittir.
B) 2 litrede 8 tane çeyrek litre vardır.
C) 5 fincan süt 1 litre gelirse, 2 litre süt 6 fincan gelir.

4-)

Ben 8 yaşındayım. Dedem, 8 yıl sonra 58 yaşında olacak. Öyle ise ben doğduğumda dedem kaç yaşındaydı?



- A) 42 B) 50 C) 66

A B B C A B B C

5-) Aşağıdaki örüntülerden hangisinin kuralı, yukarıdaki örüntünün kuralından farklıdır?

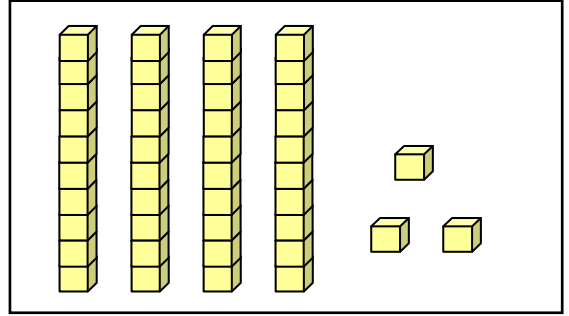
- A)
- B)
- C)

MATEMATİK DEĞERLENDİRME TESTİ

12 - 10 - 8 - 6 - 3

6-) Yukarıdaki sayılar, belli bir kurala göre dizilmiştir. Ancak bir sayı yanlış yazıldığı için kural bozulmuştur. Yanlış yazılan sayı hangisidir?

- A) 12 B) 8 C) 3



7-) Aşağıdakilerden hangisi, yukarıda sayı bloklarıyla belirtilen doğal sayıdan daha büyüktür?

- A) 44 B) 43 C) 34

8-) Marketten 3 kilo toz şeker, 2 kilo pirinç, 4 kilo bulgur ve 1 kilo zeytin aldık. Babam, bu aldıklarımızla birlikte teraziye çıkınca 85 kilogram geldi.

Buna göre, sadece babamın kilosu hangi seçenekte doğru verilmiştir?

- A) 75 B) 85 C) 95



9-) Bir çiçekçide 99 tane çiçek vardır. Bunların 25 tanesi menekşe, 33 tanesi gül, diğerleri laledir. Buna göre, lale kaç tanedir?

- A) 43 B) 41 C) 45

10-) Aşağıdakilerden hangisi, kiloyla satılmaz?

- A) domates
- B) zeytin
- C) su

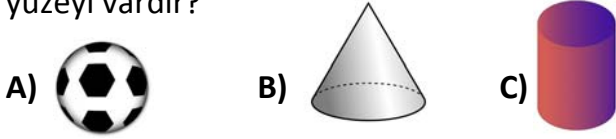
10-) Bir sınıftaki 28 öğrencinin yarısı geziye katılacaktır. Her öğrenciden 5 TL yol parası alınıyor.



Bu öğrencilerden alınan toplam yol parası kaç liradır?

- A) 75 B) 70 C) 33

11-) Hangi seçenekteki cismin, **sadece bir tane yüzeyi** vardır?



12-) Bir çiftlikte 8 tavşan, 2 köpek, 14 tavuk ve 3 inek vardır.

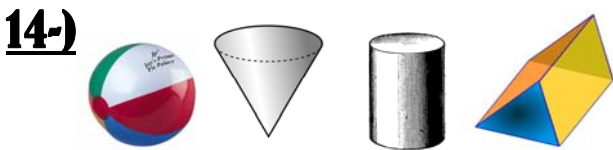
Bu hayvanların ayak sayıları toplamı kaç desteye eşittir?

- A) 7 B) 8 C) 9

48 - 44 - ? - 36 - 32 - 28

13-) Yukarıdaki sayıları belli bir kurala göre dizilmiştir. **Kuralın bozulmaması için ? yerine hangi sayı gelmelidir?**

- A) 40 B) 41 C) 42


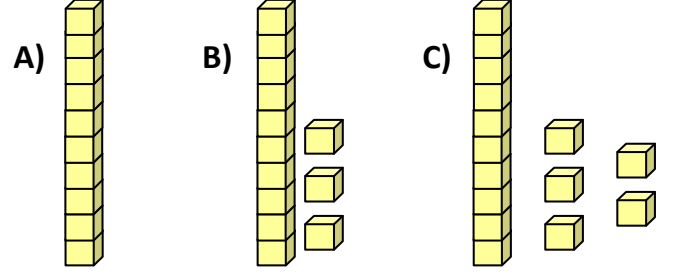


Yukarıdaki geometrik cisimlerin yüzey sayıları toplamı kaçtır?

- A) 10 B) 11 C) 12



15-) Yukarıdaki çiçeklerin sayısını, hangi seçenekteki sayma blokları gösteriyor?



16-) Yukarıdaki havuçları, tavşanlara eşit olarak paylaşırsan her tavşana kaç havuç düşer?

- A) 3 B) 4 C) 5

17-) Zaman ölçüleriyle ilgili aşağıdaki bilgilerden hangisi **doğrudur**?

- A) Bir gün 12 saattir. B) Bir hafta 5 gündür.
C) Yarım saat 30 dakikadır.

Bir yılda 12 ay vardır.	
Bir ay 7 gündür.	
Eylül, sonbahar ayıdır.	
Bir yılda 7 mevsim vardır.	

18-) Yukarıdaki tabloda, zaman ölçüleriyle ilgili hangi bilgiler **doğru** verilmiştir?

- A) ve B) ve
C) ve

SIRA KONTROLDE!